

	تاریخ آزمون: ۱۴۰۳/۱۰/..... مدت آزمون: ۶۰ دقیقه تعداد سوال: ۱۸ سوال	بسمه تعالی آزمون شبیه ساز دی ماه ۱۴۰۳ درس مطالعات اجتماعی متوسطه اول طراح: سیده ام کلثوم میری پور (سرگروه مطالعات اجتماعی استان مازندران)	نام و نام خانوادگی پایه: هشتم تعداد صفحات: ۲ صفحه
بارم	دانایی ریشه همه ی خوبی ها و نادانی ریشه همه بدی هاست. صفحه اول		
۰/۵	<input type="radio"/> ص <input type="radio"/> غ <input type="radio"/> ص <input type="radio"/> غ	۱- صحیح یا غلط بودن جملات زیر را مشخص کنید. الف) پس از آن که حکم رئیس جمهور امضا شد، او اقدام به تشکیل کابینه می کند. ب) یکی از خاندان های مشهور ایرانی که به سرنوشت ابومسلم خراسانی دچار شدند، خاندان برمکیان بودند.	
۰/۵	۲- جای خالی را با کلمات مناسب پر کنید. الف) پس از رهبری عالی ترین مقام رسمی کشور..... می باشد . ب) نخستین اقدام مهم پیامبر پس از ورود به مدینه، ایجاد..... بود.		
۰/۵	<input type="radio"/> د رهبر <input type="radio"/> ج مجلس شورای نگهبان <input type="radio"/> د دزدی <input type="radio"/> ج اعتیاد	۳- گزینه صحیح را انتخاب کنید. ۱-۳) تأیید صلاحیت داوطلبان ریاست جمهوری با کیست؟ الف) مجلس خبرگان <input type="radio"/> ب) مجلس شورای اسلامی <input type="radio"/> ج) مجلس شورای نگهبان <input type="radio"/> د) رهبر ۲-۳) کدام رفتار در نتیجه مهار نشدن خشم به وجود می آید؟ الف) پرخاشگری <input type="radio"/> ب) افسردگی <input type="radio"/> ج) اعتیاد <input type="radio"/> د) دزدی	
۱	۴- همکاری نکردن در گناه یعنی چه؟ با یک مثال توضیح دهید.		
۱	۵- اگر همسایه شما هنگام ساختمان سازی به قسمتی از ساختمان شما آسیب بزند: الف) شما کدام نوع از دعاوی را می توانید در دادگاه مطرح کنید؟ ب) دادگاه چه حکمی درباره وی صادر خواهد کرد؟		
۱		۶- با توجه به تصویر به سوالات زیر پاسخ دهید. الف) تصویر مقابل کدام شکل از انواع تعاون را نشان می دهد؟ ب) به نظر شما چه عواملی مانع از تعاون و همکاری می شود؟ ۲ مورد	
۱	۷- «زهر با عجله وارد اتاق خواهرش شد و خواهرش به او علامت ((هیس)) می دهد.» عناصر ارتباط را در متن مشخص کنید. گیرنده پیام : فرستنده پیام :		
۱		۸- به شکل مقابل توجه کنید و به سوالات زیر پاسخ دهید. الف) کدام کاربرد فناوری اطلاعات و ارتباطات را نشان می دهد؟ ب) یک فایده استفاده از آن را بنویسید.	
ادامه سوالات در صفحه بعد			

ادامه سوالات مطالعات اجتماعی پایه هشتم

۱	<p>۹- اگر در خانواده و فامیل برای کسی اتفاق ناخوشایندی پیش بیاید آیا صحیح است ما بی تفاوت بمانیم؟ چرا؟</p>
۱	<p>۱۰- نمودار زیر را که درباره درآمد های دولت است کامل کنید.</p>
۱	<p>۱۱- دو ویژگی برای حکومت معاویه بنویسید. این ویژگی ها چه مغایرتی با دستورات اسلام داشت؟</p>
۱	<p>۱۲- دو مورد از وظایف قوه قضائیه را نام ببرید.</p>
۱	<p>۱۳- من از دست یکی از دانش آموزانم به علت درس نخواندن های مکرر بسیار عصبانی هستم، مرا راهنمایی کنید در این حالت چه اقداماتی باید انجام دهم؟ دو مورد</p>
۲	<p>۱۴- رابطه ی سلسله های ایرانی را با خلفای عباسی مقایسه کنید و توضیح دهید.</p>
۱	<p>۱۵- مراسم تحلیف(سوگند) ریاست جمهوری را توضیح دهید.</p>
<p>ادامه سوالات در صفحه بعد</p>	

ادامه سوالات مطالعات اجتماعی پایه هشتم

۱- به تصویر مقابل توجه کنید و بنویسید کدام یک از خطرات فضای مجازی را نشان می دهد؟ چه راهکاری برای آن پیشنهاد می دهید (یک مورد)



۱۷- یک تفاوت و یک شباهت خاندان عباسی با خاندان اموی را بنویسید.

۱۸- جدول مقابل را کامل کنید.

الف						
ب						
ج						
د						

الف) پیامبر خدا از مسلمانان خواست که خطبه.....
 را به خاطر بسپارند.
 ب) به دوران پیش از بعثت پیامبر، عصر.....
 می گویند.

ج) مسلمانانی که اموال خود را رها نمودند و از مکه به مدینه رفتند.....معروفند.
 د) خلیفه سوم،.....توسط شورایی که عمر تعیین کرده بود به خلافت رسید.



عجب خدایی داریم به جای این که مچمان را بگیرد، دستمان را می گیرد.

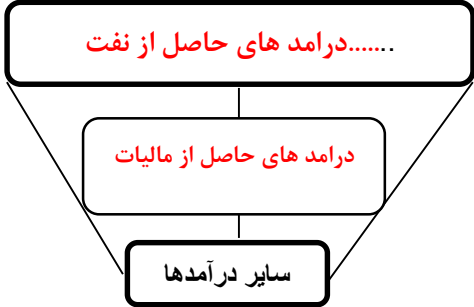
نمره به حروف:.....

نمره به عدد:.....

تاریخ تصحیح:

امضای دبیر:

	تاریخ آزمون: ۱۴۰۳/۱۰/..... مدت آزمون: ۶۰ دقیقه تعداد سوال: ۲۰ سوال	بسمه تعالی آزمون شبیه ساز دی ماه ۱۴۰۳ درس مطالعات اجتماعی متوسطه اول طراح: سیده ام کلثوم میری پور (سرگروه مطالعات اجتماعی استان مازندران)	نام و نام خانوادگی پایه: هشتم تعداد صفحات: ۲ صفحه
بارم	دانایی ریشه همه ی خوبی ها و نادانی ریشه همه بدی هاست. صفحه اول		
۰/۵	ص <input type="radio"/> غ <input checked="" type="radio"/>	۱- صحیح یا غلط بودن جملات زیر را مشخص کنید. الف) پس از آن که حکم رئیس جمهور امضا شد، او اقدام به تشکیل کابینه می کند. ب) یکی از خاندان های مشهور ایرانی که به سرنوشت ابومسلم خراسانی دچار شدند، خاندان برمکیان بودند. ص <input checked="" type="radio"/> غ <input type="radio"/>	
۰/۵	ص <input type="radio"/> غ <input checked="" type="radio"/>	۲- جای خالی را با کلمات مناسب پر کنید. الف) پس از رهبری عالی ترین مقام رسمی کشور رئیس جمهور می باشد. ب) نخستین اقدام مهم پیامبر پس از ورود به مدینه، ایجاد مسجد بود.	
۰/۵	د رهبر <input type="radio"/>	۳- گزینه صحیح را انتخاب کنید. ۱-۳) تأیید صلاحیت داوطلبان ریاست جمهوری با کیست؟ الف) مجلس خبرگان <input type="radio"/> ب) مجلس شورای اسلامی <input type="radio"/> ج) مجلس شورای نگهبان <input checked="" type="radio"/> د) رهبر <input type="radio"/> ۲-۳) کدام رفتار در نتیجه مهار نشدن خشم به وجود می آید؟ الف) پرخاشگری <input checked="" type="radio"/> ب) افسردگی <input type="radio"/> ج) اعتیاد <input type="radio"/> د) دزدی <input type="radio"/>	
۱	۴- همکاری نکردن در گناه یعنی چه؟ با یک مثال توضیح دهید. همکاری نکردن در گناه یعنی اینکه اگر کسی کار ناپسند یا گناهی انجام می دهد ما او را تشویق نکنیم یا طوری رفتار نکنیم که انگار با او موافق هستیم. همکاری نکردن در گناه، گاهی به این صورت است که مقدمه انجام آن گناه را برای خود یا دیگران فراهم نکنیم. اگر کلیدساز هستیم با فردی که قصد دزدی دارد همکاری نکنیم و قفل ها را برایش باز نکنیم و ...		
۱	۵- اگر همسایه شما هنگام ساختمان سازی به قسمتی از ساختمان شما آسیب بزند: الف) شما کدام نوع از دعاوی را می توانید در دادگاه مطرح کنید؟ دعای حقوقی ب) دادگاه چه حکمی درباره وی صادر خواهد کرد؟ میزان ضرر و زیان را تعیین میکند و همسایه ما باید خسارات را بپردازد.		
۱		۶- با توجه به تصویر به سوالات زیر پاسخ دهید. الف) تصویر مقابل کدام شکل از انواع تعاون را نشان می دهد؟ تعاون در خانه ب) به نظر شما چه عواملی مانع از تعاون و همکاری می شود؟ ۲ مورد غرور، تنبلی، خجالت کشیدن و ...	
۱	۷- « زهرا با عجله وارد اتاق خواهرش شد و خواهرش به او علامت ((هیس)) می دهد.» عناصر ارتباط را در متن مشخص کنید. گیرنده پیام: زهرا فرستنده پیام: خواهر زهرا		
۱		۸- به شکل مقابل توجه کنید و به سوالات زیر پاسخ دهید. الف) کدام کاربرد فناوری اطلاعات و ارتباطات را نشان می دهد؟ مکاتبه و ارتباط سریع با دیگران ب) یک فایده استفاده از آن را بنویسید. با پست الکترونیک (ایمیل) می توان نام هنگاری کرد و فایل های متنی یا صوتی و تصویری را به همراه نامه ارسال نمود.	

۱	<p>۹- اگر در خانواده و فامیل برای کسی اتفاق ناخوشایندی پیش بیاید آیا صحیح است ما بی تفاوت بمانیم؟ چرا؟ خیر، زیرا ممکن است در آینده برای ما هم اتفاقی بیوفتد و ما انتظار کمک از دیگران داشته باشیم و وقتی ما در شرایط ناخوشایند به دیگران کمک نکردیم و بی تفاوت بودیم دیگران هم در شرایط ناخوشایندی که برای ما اتفاق افتاده نسبت به ما بی تفاوت خواهند بود.</p>
۱	<p>۱۰- نمودار زیر را که درباره درآمد های دولت است کامل کنید.</p> 
۱	<p>۱۱- دو ویژگی برای حکومت معاویه بنویسید. این ویژگی ها چه مغایرتی با دستورات اسلام داشت؟ بدست گرفتن قدرت با فریبکاری - عدم وفاداری به پیمان صلح خود با امام حسن (ع) مغایرت : اسلام دین صداقت است دروغ و حيله در آن جایگاهی ندارد. با پول و مقام، اشخاص با نفوذ و قدرتمند را جذب خود می کرد - تقسیم بیت المال در میان خویشاوندان خود مغایرت : استفاده شخصی از اموال عمومی حرام است. یزید را به جانشینی خود، انتخاب و خلافت را موروثی کرد. مغایرت : حاکم باید عادل باشد و انتخاب حاکم باید با خواست مردم انجام شود.</p>
۱	<p>۱۲- دو مورد از وظایف قوه قضائیه را نام ببرید. عدالت اجتماعی را برقرار سازد، بر اجرای قوانین نظارت کند، با تخلفات برخورد کند و متخلفان را به مجازات برساند.</p>
۱	<p>۱۳- من از دست یکی از دانش آموزانم به علت درس نخواندن های مکرر بسیار عصبانی هستم، مرا راهنمایی کنید در این حالت چه اقداماتی باید انجام دهم؟ دو مورد به خدا پناه ببریم و با گفتن ذکر و نام و یاد خدا خود را آرام کنیم. نفسهای عمیق بکشیم و از یک تا ده بشماریم. با رعایت سه قاعده ای که گفته شد، علت عصبانیت خود را مؤدبانه و آرام بیان کنیم. اگر نمیتوانیم خود را آرام کنیم، محیط ناراحت کننده را ترک کنیم. برای آرام کردن خود از گفت و گو و مشورت با بزرگترها کمک بگیریم. خوبی های طرف مقابل را به یاد بیاوریم.</p>
۲	<p>۱۴- رابطه ی سلسله های ایرانی را با خلفای عباسی مقایسه کنید و توضیح دهید. برخی از این سلسله ها مانند طاهریان و سامانیان با فرمان خلفای عباسی به قدرت رسیدند و با تأیید آنها به حکومت خود ادامه دادند. طاهر ذوالیمینین، بنیانگذار سلسله طاهریان به فرمان مأمون خلیفه عباسی به حکومت خراسان منصوب شد. امیراسماعیل سامانی، مؤسس سلسله سامانیان نیز با تأیید خلیفه عباسی به حکومت رسید، این دو سلسله روابطی دوستانه با خلافت عباسیان برقرار کردند. سلسله های صفاریان، علویان طبرستان و آل بویه، بی آنکه اجازه و فرمانی از خلفای عباسی بگیرند، حکومت خود را برپا کردند. روابط صفاریان با خلافت عباسی، خصمانه بود. خلفای عباسی دشمن علویان طبرستان بودند؛ زیرا علویان پیرو مذهب شیعه بودند و حکومت عباسیان را به رسمیت نمی شناختند و از آنان اطاعت نمی کردند. رابطه سلسله آل بویه با عباسیان به گونه ای دیگر بود. چون آل بویه بغداد را تصرف کردند و خلفای عباسی را تحت نفوذ و سلطه خود گرفتند.</p>

۱	<p>۱۵- مراسم تحلیف (سوگند) ریاست جمهوری را توضیح دهید.</p> <p>رئیس جمهور در مجلس شورای اسلامی با حضور نمایندگان مجلس و شورای نگهبان و رئیس قوه قضائیه در پیشگاه قرآن کریم سوگند یاد می کند که وظایف خود را مانند ترویج دین و اخلاق، پشتیبانی از حق، گسترش عدالت، پاسداری از قانون اساسی و ... به درستی انجام دهد.</p>																																
۱	<p>۱۶- به تصویر مقابل توجه کنید و بنویسید کدام یک از خطرات فضای مجازی را نشان می دهد؟ چه راهکاری برای آن پیشنهاد می دهید (یک مورد)</p> <p>خطر واقعی نبودن اطلاعات افراد در فضای مجازی</p> <p>* از ارتباط با افراد ناشناس در فضای مجازی پرهیز کنید.</p> <p>* از اعتماد بی جا به افراد، پرهیز کنید.</p> <p>* به عناوین تحریک کننده که برای به انحراف کشیدن شما طراحی شده، بی اعتنایی کنید.</p> 																																
۱	<p>۱۷- یک تفاوت و یک شباهت خاندان عباسی با خاندان اموی را بنویسید.</p> <p>الف) ۱- هردو حکومت را با توسل به زور و حيله و نیرنگ و فریب دادن مردم بدست آورده بودند ۲- هردو با امامان و شیعیان دشمنی داشتند چون آنها را مانعی بر سر راه خود می دیدند</p> <p>ب) عباسیان در اداره امور حکومت و مقام وزارت و فرماندهی سپاه از ایرانیان بهره می بردند اما امویان به غیر اعراب ارزشی قائل نبودند و مورد تحقیر و توهین قرار می دادند و در بیشتر ولایات ایران از سران و بزرگان قبایل عرب استفاده می کردند تا اینکه بتوانند کنترل کنند.</p>																																
۲	<p>۱۸- جدول مقابل را کامل کنید.</p> <table border="1" data-bbox="165 1020 836 1230"> <tr> <td></td> <td></td> <td></td> <td>ر</td> <td>ی</td> <td>د</td> <td>غ</td> <td>الف</td> </tr> <tr> <td></td> <td></td> <td>ت</td> <td>ل</td> <td>ه</td> <td>ا</td> <td>ج</td> <td>ب</td> </tr> <tr> <td></td> <td>ن</td> <td>ی</td> <td>ج</td> <td>ا</td> <td>ه</td> <td>م</td> <td>ج</td> </tr> <tr> <td></td> <td></td> <td>ن</td> <td>ا</td> <td>م</td> <td>ث</td> <td>ع</td> <td>د</td> </tr> </table> <p>الف) پیامبر خدا از مسلمانان خواست که خطبه غدیر را به خاطر بسپارند.</p> <p>ب) به دوران پیش از بعثت پیامبر، عصر جاهلیت می گویند.</p> <p>ج) مسلمانانی که اموال خود را رها نمودند و از مکه به مدینه رفتند مهاجرین معروفند.</p> <p>د) خلیفه سوم، عثمان توسط شورایی که عمر تعیین کرده بود به خلافت رسید.</p>				ر	ی	د	غ	الف			ت	ل	ه	ا	ج	ب		ن	ی	ج	ا	ه	م	ج			ن	ا	م	ث	ع	د
			ر	ی	د	غ	الف																										
		ت	ل	ه	ا	ج	ب																										
	ن	ی	ج	ا	ه	م	ج																										
		ن	ا	م	ث	ع	د																										